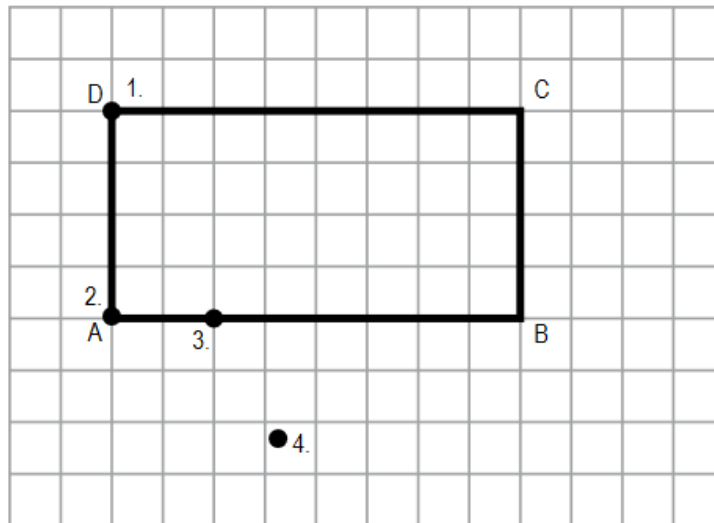


## Kompetencia szoba – I. korcsoport (5-6. osztály)

Kedves Versenyző! Ezeknél a feladatoknál pontosan egyetlen megoldás helyes. Satírozd be a helyes megoldás betűjelét! Jó munkát!

### 1. feladat

Egy 4 egység széles, 8 egység hosszú téglalap alakú papírlapot úgy hajtunk össze egy hajtással, hogy a C csúcs az A-ba kerüljön.



Hová kerül a B csúcs? Satírozd be a helyes válasz betűjelét!

- (A) Az 1. pontba.
- (B) A 2. pontba.
- (C) A 3. pontba.
- (D) A 4. pontba.

### 2. feladat

Barbara 2012-ben osztálytalálkozót szervezett. A pontos dátum megválasztásánál figyelt arra, hogy az ne ütközzön se a szintén ebben az évben rendezett olimpiával, se az úszó-Európa-bajnoksággal, mivel azokat sokan szerették volna követni a televízióban.

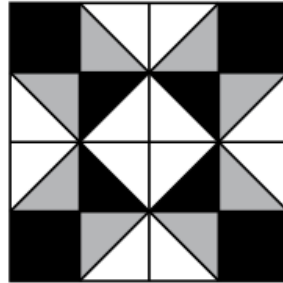
Melyik évben lesz ismét egyszerre a 2 évente megrendezett úszó-Európa-bajnokság, a 4 évente megrendezett olimpia és az 5 évente megrendezett osztálytalálkozó?

Satírozd be a helyes válasz betűjelét!

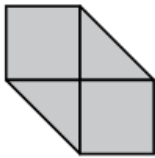
- (A) 2020
- (B) 2032
- (C) 2040
- (D) 2052

3. feladat

A következő ábrán fehér, szürke és fekete mintázatú alakzatokból álló, foltvarrással készült terítő látható.



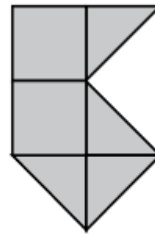
A következő ábrán látható anyagmaradékok közül melyik elegendő a terítő SZÜRKE mintázatú részének elkészítéséhez? Satírozd be a helyes ábra betűjelét!



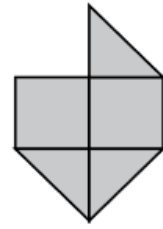
(A)



(B)



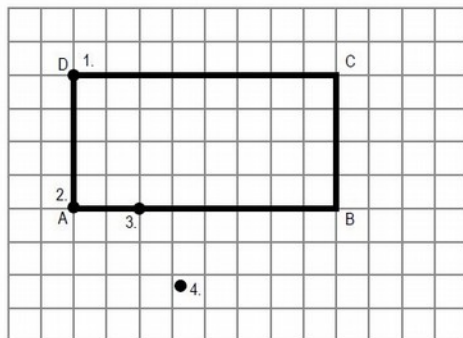
(C)



(D)



Egy 4 egység széles, 8 egység hosszú téglalap alakú papírlapot úgy hajtunk össze egy hajtással, hogy a C csúcs az A-ba kerüljön.



Hová kerül a B csúcs? Válaszd ki a helyes válasz betűjelét!

- A Az 1. pontba.
- B A 2. pontba.
- C A 3. pontba.
- D A 4. pontba.


Barbara 2012-ben osztálytalálkozót szervezett. A pontos dátum megválasztásánál figyelt arra, hogy az ne ütközzön se a szintén ebben az évben rendezett olimpiával, se az úszó Európa-bajnoksággal, mivel azokat sokan szerették volna követni a televízióban.

Melyik évben lesz ismét egyszerre a 2 évente megrendezett úszó-Európa-bajnokság, a 4 évente megrendezett olimpia és az 5 évente megrendezett osztálytalálkozó?

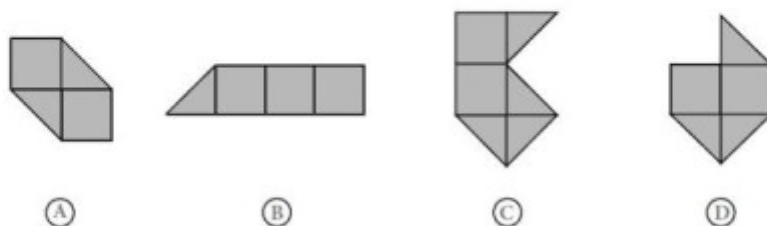
Válaszd ki a helyes válasz betűjelét!

- A 2020
- B 2032
- C 2040
- D 2052

A következő ábrán fehér, szürke és fekete mintázatú alakzatokból álló, foltvarrással készült terítő látható.



A következő ábrán látható anyagmaradékok közül melyik elegendő a terítő SZÜRKE mintázatú részének elkészítéséhez? Válaszd ki a helyes ábra betűjelét!



- A
- B
- C
- D